

5年

第1回 日本列島

◆ 次の各問いに答えなさい。

問1 地図1のA～Dは日本の東西南北の端をしめしています。A～Dの島の名を、ア～エから選び、それぞれ記号で答えなさい。

- ア おきの とり 沖ノ鳥島 イ みなみとり 南鳥島
ウ えとろふ 択捉島 エ よなくに 与那国島

問2 地図1のAの緯度を、ア～エから選び、記号で答えなさい。

- ア ほくい 北緯20度 イ 北緯46度
ウ なんい 南緯20度 エ 南緯46度

問3 地図1のCの経度を、ア～エから選び、記号で答えなさい。

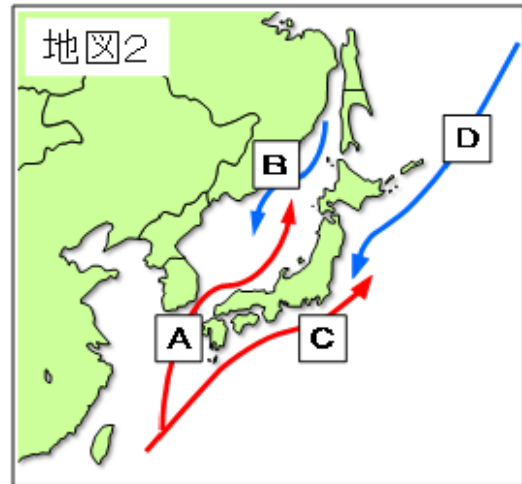
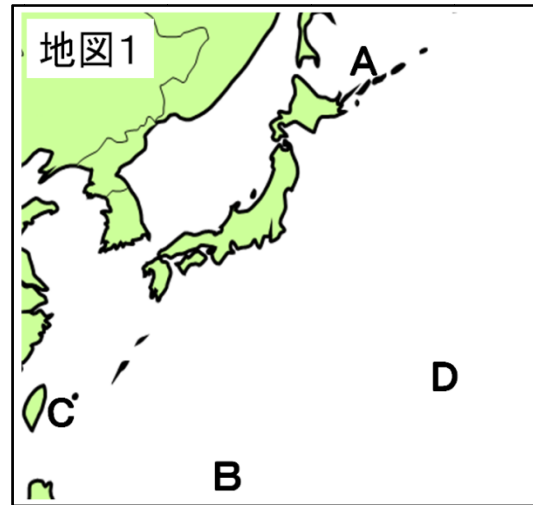
- ア とうけい 東経123度 イ 東経154度 ウ せいけい 西経123度 エ 西経154度

問4 地図2のA～Dは、海流をしめしています。

だんりゅう 暖流の組み合わせとして正しいものを、ア～エから選び、記号で答えなさい。

- ア A・B イ A・C
ウ B・C エ B・D

問5 地図2のA・C・Dの海流の名を答えなさい。



◆ 解答らん

問1	A
----	---

問1	B
----	---

問1	C
----	---

問1	D
----	---

問2	
----	--

問3	
----	--

問4	
----	--

問5	A
----	---

問5	C
----	---

問5	D
----	---

5年

第1回 日本列島

◆ 次の各問いに答えなさい。

問1 地図1のA～Dは日本の東西南北の端をしめしています。A～Dの島の名を、ア～エから選び、それぞれ記号で答えなさい。

- ア おきの とり 沖ノ鳥島 イ みなみとり 南鳥島
ウ えとろふ 択捉島 エ よなくに 与那国島

問2 地図1のAの緯度を、ア～エから選び、記号で答えなさい。

- ア ほくい 北緯20度 イ 北緯46度
ウ なんい 南緯20度 エ 南緯46度

問3 地図1のCの経度を、ア～エから選び、記号で答えなさい。

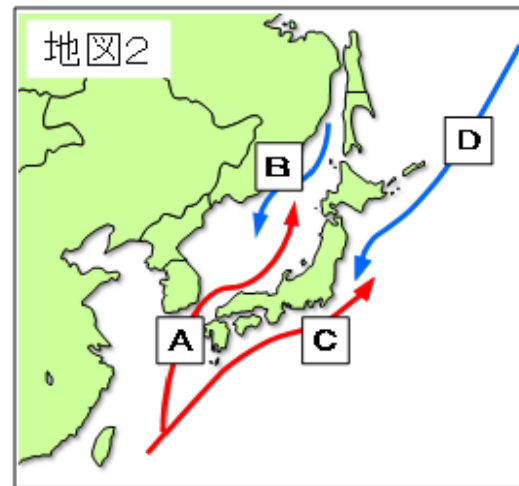
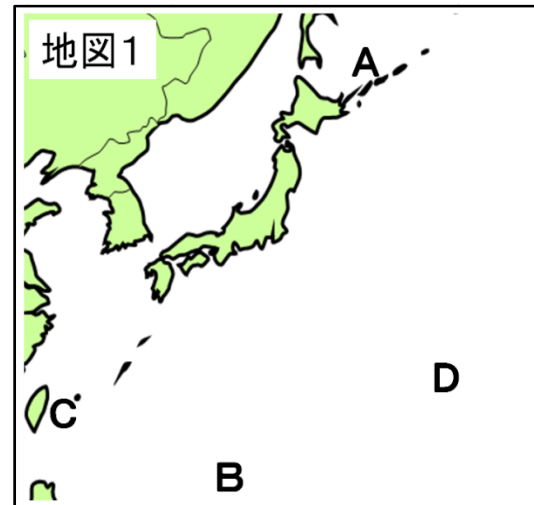
- ア とうけい 東経123度 イ 東経154度 ウ せいけい 西経123度 エ 西経154度

問4 地図2のA～Dは、海流をしめしています。

だんりゅう 暖流の組み合わせとして正しいものを、ア～エから選び、記号で答えなさい。

- ア A・B イ A・C
ウ B・C エ B・D

問5 地図2のA・C・Dの海流の名を答えなさい。



◆ 解答らん

問1 A ウ

問1 B ア

問1 C エ

問1 D イ

問2 イ

問3 ア

問4 イ

問5 A 対馬海流

問5 C 日本海流(黒潮)

問5 D 千島海流(親潮)